
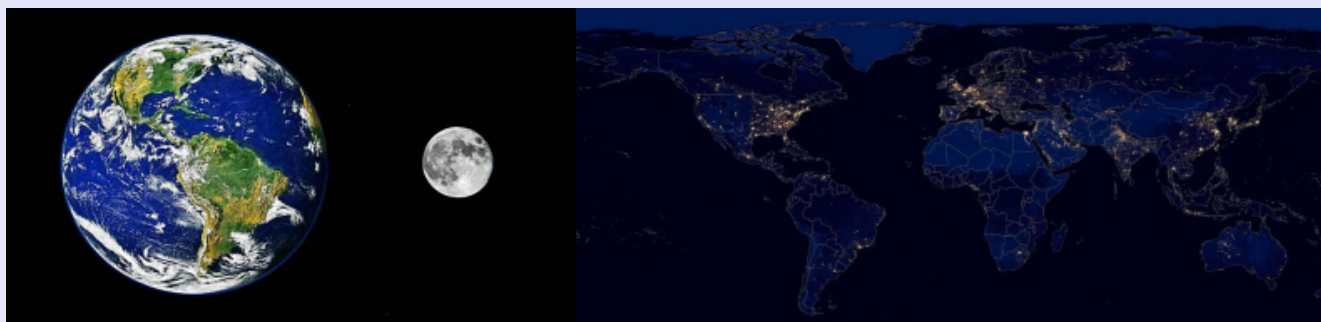
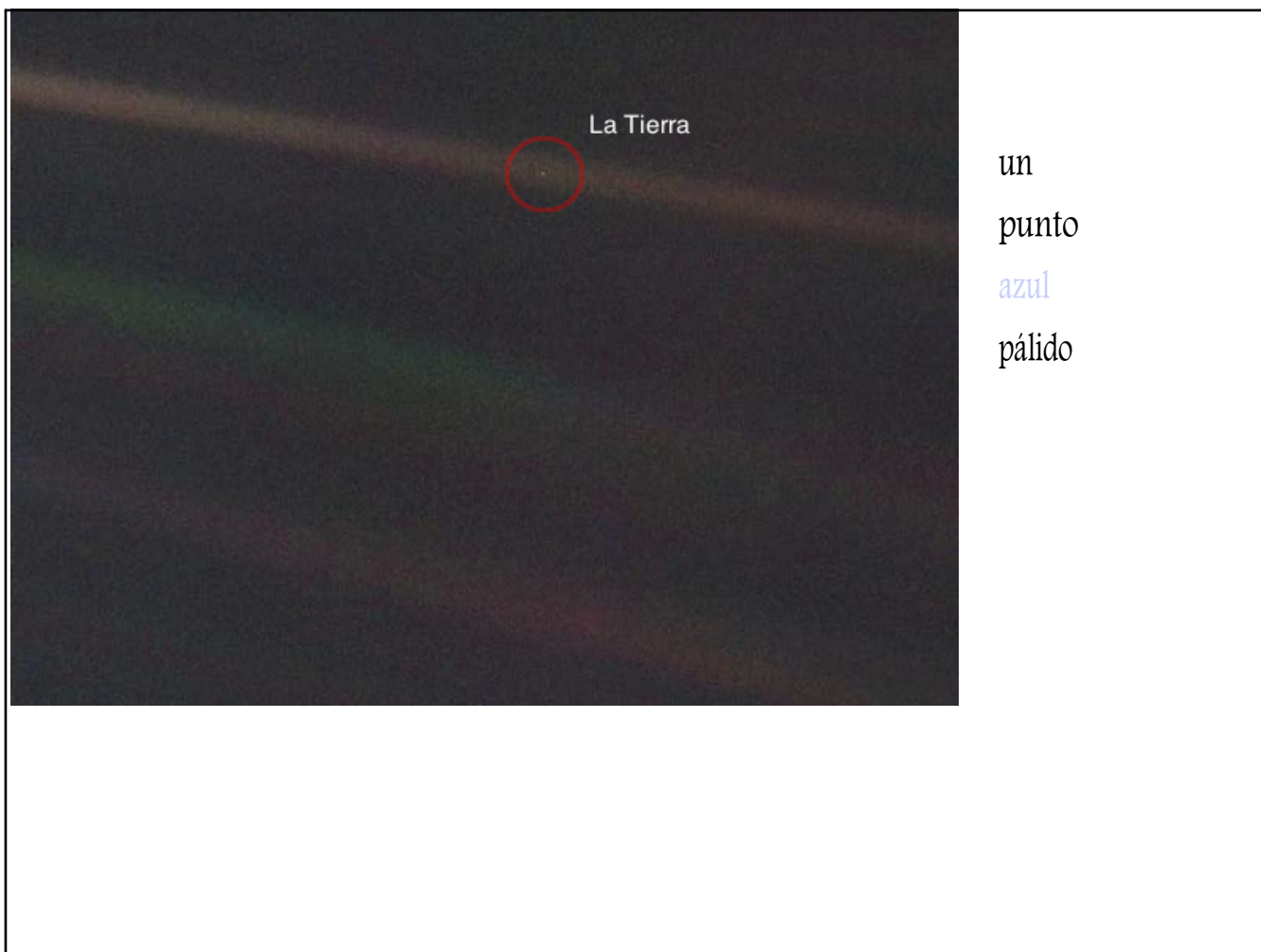


GEOGRAFÍA 3ºESO



CUESTIONARIO INICIAL







The earth photographed from 3.7 billion miles away, by Voyager I in 1990 as it left our solar system.



How does it make you feel ? Insignificant? Special?

VÍDEO



ARCHIVO
ADJUNTO



El gran desierto de Gobi se ubica en... ^x

- En Asia
- En Sudamérica
- En África
- En América Central

1



2

En Grecia

En Italia



3

Verdad

Mentira



4

¿Cuál de estos países no tiene acceso al Mar Mediterráneo? ^x

Tetyana Moshchenko

Eslovenia

Chipre

Serbia

Egipto



5

¿Cuál es el río más largo del mundo? ^x

Amazonas

Río Amarillo

Yangtsé

Nilo



6

¿Qué país es el segundo más grande del mundo en términos de población?

Andrey Komov


Indonesia

China

Rusia

India

7



¿Cuál de estos países es bañado únicamente por un océano?

Thomas Moore

México

Gran Bretaña

Canadá

Rusia



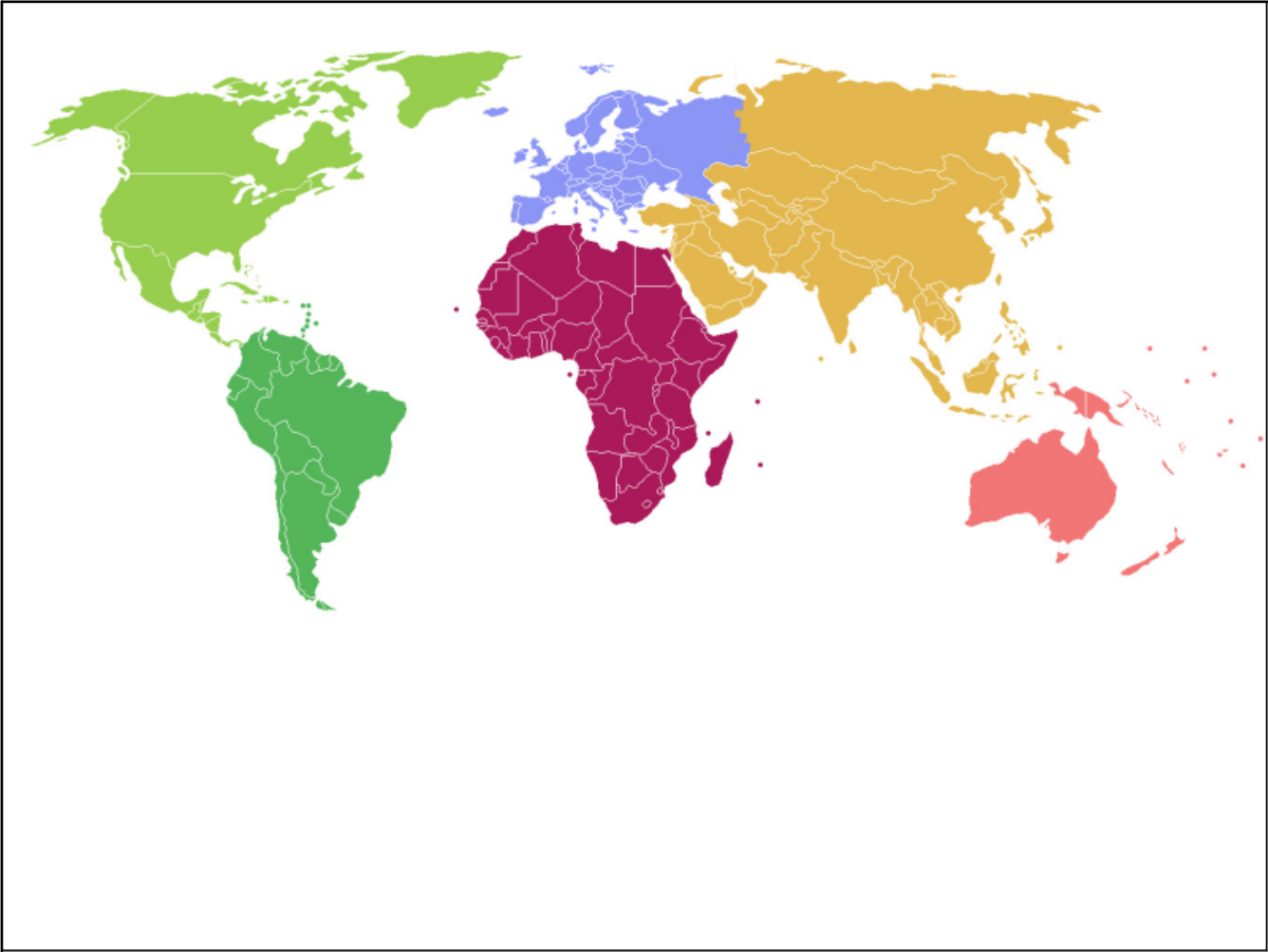
¿Cuántos continentes hay en la Tierra? ^x

6

5

11

8





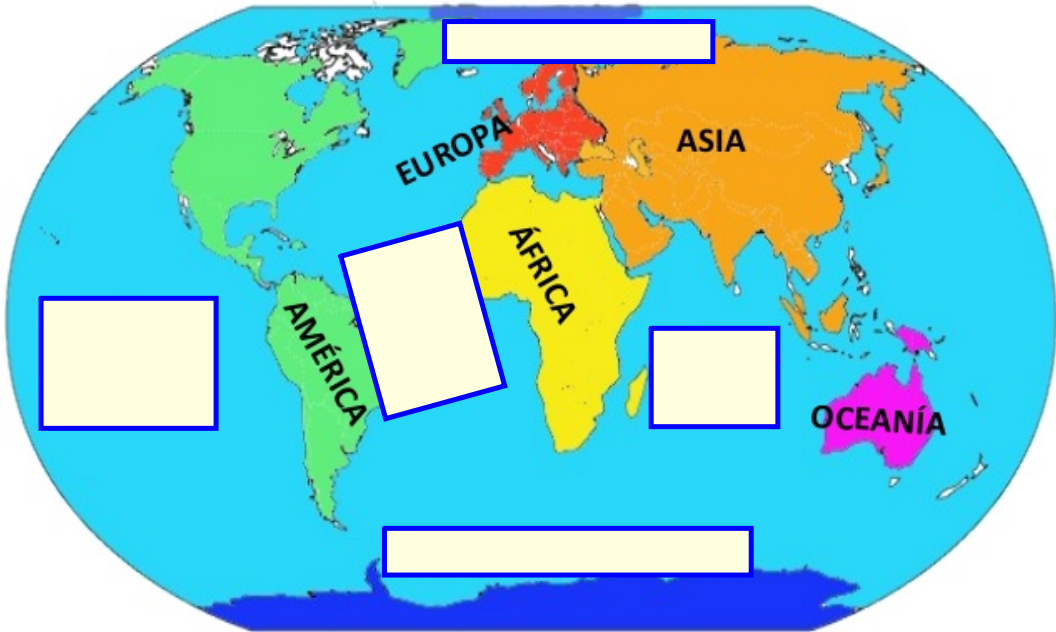
9

5

7

11

OCEANOS y CONTINENTES





10

- | | | | |
|------|-----------|---------|--------|
| Malí | Marruecos | Nigeria | Egipto |
|------|-----------|---------|--------|



¿Cuál es la parte más seca de la Tierra? ^x

Tarkan KIZARTICI

América del Sur

América del Norte

Asia

La Antártida

11



12

¿Cuál es el lago más profundo del mundo? ^x

Hurón

Victoria

Baikal

Costanza



13

Chipre

Mallorca

Sicilia

Cerdeña



14

Libia

Argelia

Marruecos

Las 100 aglomeraciones urbanas más pobladas del mundo

			Citypopulation	Demografía	ONU	censo oficial
1	Cantón	 China	48.500.000	42.941.000	45.553.000	39.264.086
2	Tokio	 Japón	39.800.000	38.001.000	37.843.000	8.945.695
3	Shangái	 China	31.100.000	29.213.000	30.477.000	25.420.288
4	Yakarta	 Indonesia	28.900.000	11.399.000	30.539.000	10.558.121
5	Delhi	 India	27.200.000	25.703.000	24.998.000	16.349.831
6	Karachi	 Pakistán	25.100.000	16.618.000	22.123.000	21.142.625
7	Seúl	 Corea del Sur	24.800.000	13.558.000	23.480.000	23.836.272

8	Manila	 Filipinas	24.600.000	12.946.000	24.123.000	1.652.171
9	Bombay	 India	24.300.000	21.043.000	21.732.000	19.617.302
10	Ciudad de México	 México	22.300.000	22.452.000	20.063.000	20.892.724
11	Nueva York	 Estados Unidos	22.200.000	19.532.000	20.630.000	19.556.440
12	São Paulo	 Brasil	21.800.000	21.066.000	20.365.000	19.683.975
13	Pekín	 China	21.100.000	20.384.000	21.009.000	16.446.857
14	Daca	 Bangladés	17.400.000	17.598.000	15.669.000	14.543.124
15	Osaka	 Japón	19.800.000	20.238.000	17.444.000	2.665.314



15

¿Cuál es la capital de Estonia? *

Vilnius

Riga

Tallín



16

¿En que frontera se encuentra el Everest? *

China e India

Nepal e India

China y Rusia

China y Nepal

El monte **Everest** es la **montaña** más alta del planeta Tierra, con una altura de 8848 metros (29 029 pies) sobre el nivel del mar.¹ Está localizada en el continente **asiático**, en la cordillera del **Himalaya**, concretamente en la subcordillera de **Mahalangur Himal**; marca la frontera entre **China** y **Nepal**. El **macizo** incluye los picos vecinos **Lhotse**, 8516 m (27 940 pies); **Nuptse**, 7855 m (25 771 pies) y **Changtse**, 7580 m (24 870 pies).





17

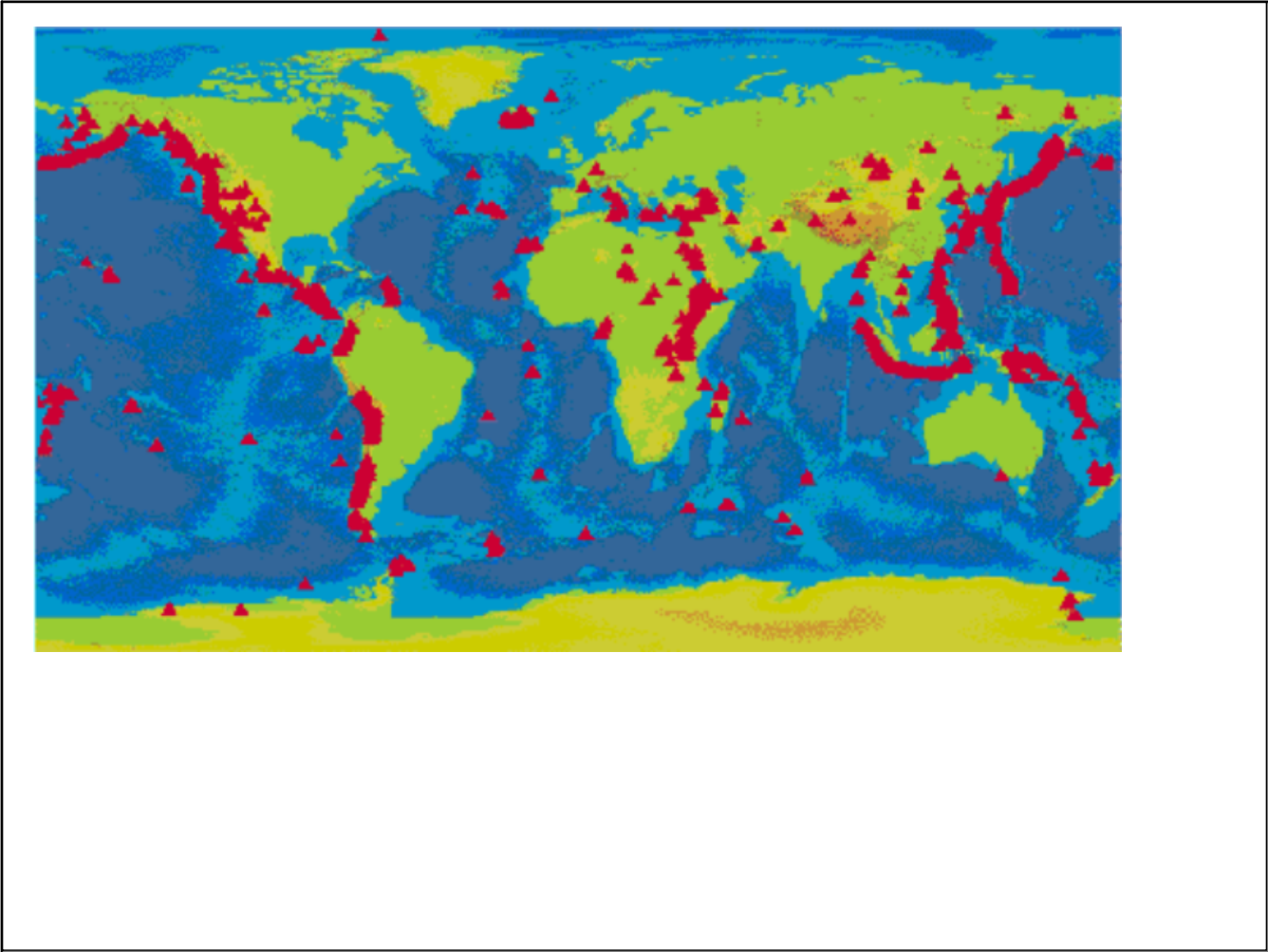
¿Cuántos volcanes siguen activos en el mundo? *

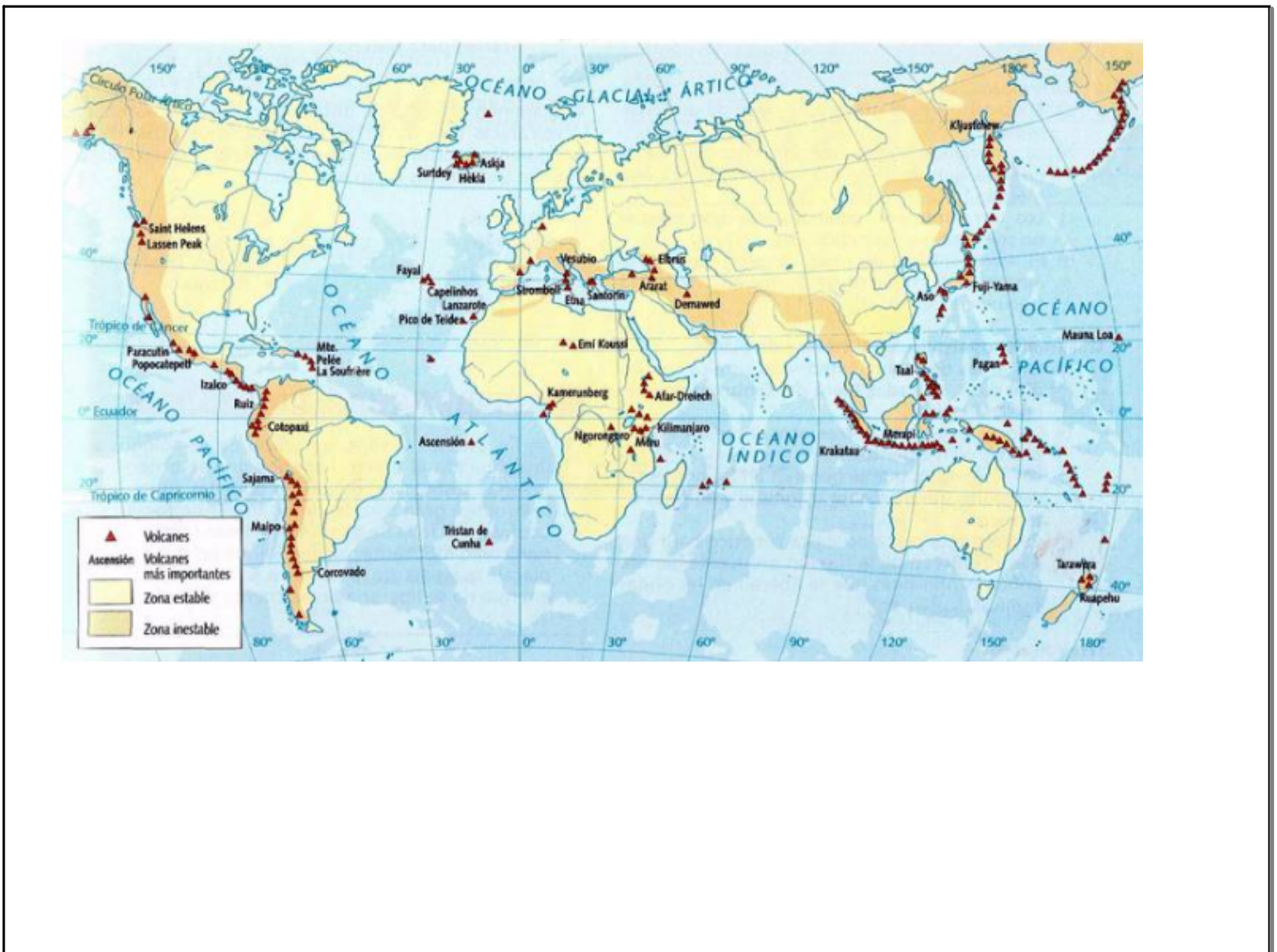
2000

1700

1500

1000







18

¿Qué capital está más al norte del planeta ^x

Oslo

Estocolmo

Reikiavik

Moscú

¿CUÁL ES LA POBLACIÓN MUNDIAL (AÑO 2017)?

<http://poblacion.population.city/world/>

Poblacion actual *



Este Día

Crecimiento de la población Este Día

156 312

Los cambios cada 0.38 sec.

Nacimientos Este Día

267 263

Los cambios cada 0.222 sec.

Muertes Este Día

110 951

Los cambios cada 0.536 sec.

Este año

Crecimiento de la población Este año

59 017 100

Nacimientos Este año

100 907 854

Muertes Este año

41 890 754

Fuentes: [1]

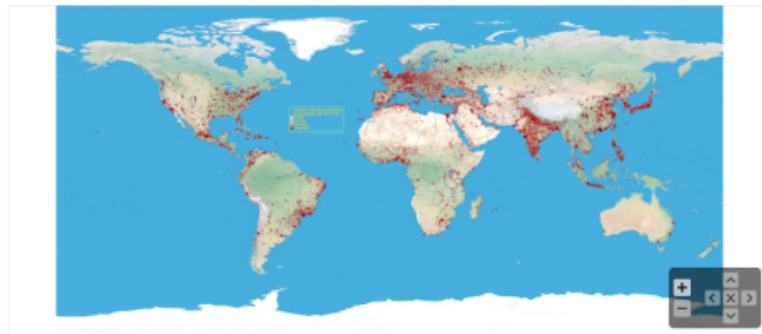
Estadística de hoy desde la medianoche 00:00.

Este año, estadística cambia desde 1 de enero

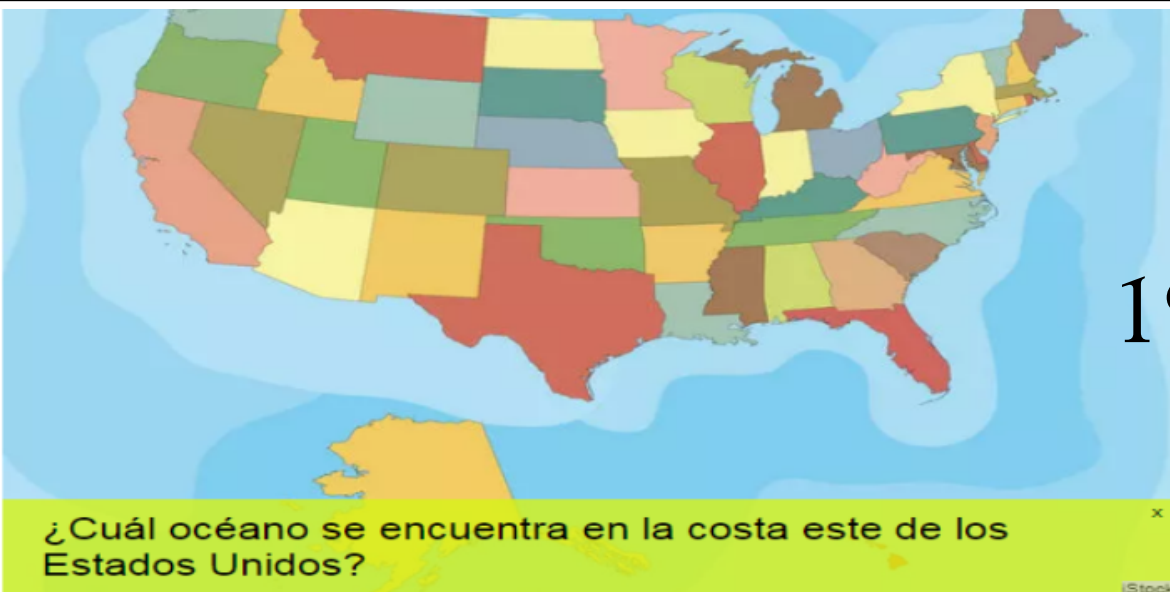
Población = Nacimientos** - Muertes

Mapa del mundo de la población

Mapa mundial de la ciudad y densidad poblacional. El punto rojo significa ciudad con población de un mínimo de 5000. Los círculos rojos son las ciudades con población de 50,000 hasta 10+ millones. Puedes ampliar / explorar el mapa para ver los detalles.



19



Atlántico

Indíco

Pacífico

Este



20

¿Cuál es la montaña más alta del mundo? ^x

Kilimanjaro

K2

Makalu

Monte Everest

21

¿Cuál es la capital de Brasil?

São Paulo

Brasilia

Río de Janeiro

22




¿Cuál es el segundo continente más grande del mundo? ^x

Europa

África

Antártida

Norte América



23

¿Cuántos lagos comprende la región de los grandes lagos de Canadá y Estados Unidos?

3

7

5

6



¿Cuál es el país más poblado del mundo? *

India

China

Rusia

Indonesia

24

25



¿En qué continente se encuentra Israel? *

Asia

Europa

Medio Oriente

África

26



¿Cuántos países hay en el mundo? ^x

189

192

196

214

istock

27




El desierto más grande del mundo es el... x

Atacama

Sahara

Gran desierto arenoso

28



¿Cuál de estas ciudades no se encuentra en Europa? ^x

Estambul

Barcelona

Praga

Reykjavik

29



Latitud

Longitud

30



¿Qué país no es fronterizo a Francia? ^x

España

Alemania

Holanda

Italia



31

¿Cuál es la capital de Canadá? *

Toronto	Ottawa	Quebec	Vancouver
---------	--------	--------	-----------

32



¿En qué país se encuentra el Gran Cañón? ^x

Colombia

Wyoming

Estados Unidos

México

33



¿Qué pueblo polinésico encuentras en Isla de Pascua? *

Rapa Nuis

Aniwas

Māoris

Samoanos

34




¿Qué es el cinturón de fuego? *

El nombre dado a la región de volcanes que rodean Hawai.

El apodo del volcán Kilauea, uno de los volcanes más activos del mundo.

Una zona en la cuenca del Océano Pacífico, donde hay una intensa actividad sísmica y volcánica.



35

¿Cómo se llama la región que está coloreada? ^x

Desierto del Sahara
Medio oriente
Península Arábiga
Península Ibérica

36



¿Cuál es el cuerpo de agua más grande de la tierra? ^x

Océano Atlántico

Océano Pacífico

Océano Índico

37



¿Cuál es el país más pequeño del mundo, medido en superficie total de éste?

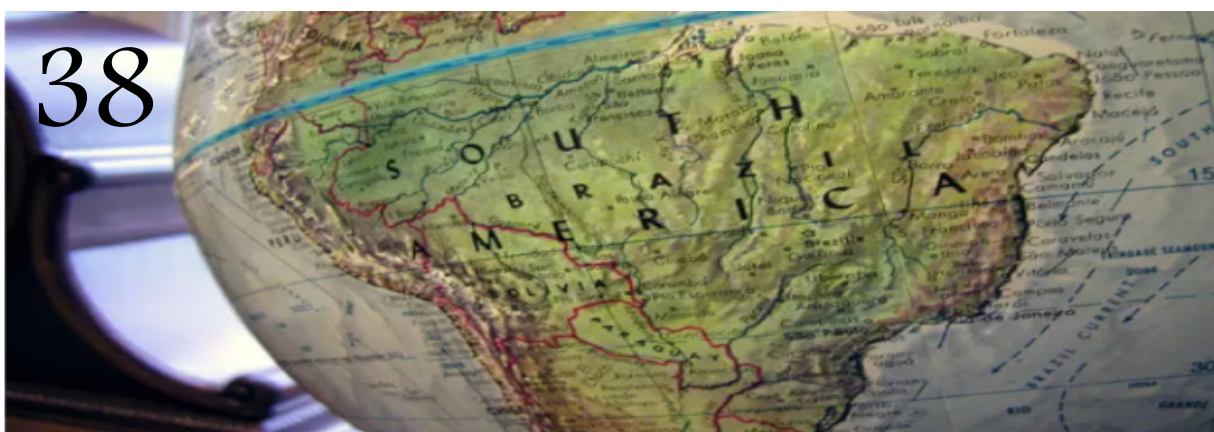
Vaticano

Tuvalu

Mónaco

Malvinas

38



¿Cuál es el tamaño aproximado de la línea del ecuador?

40,000 km

50,000 km

30,000 km

20,000 km

39



¿Cuál es el nombre de este mar? ^x

Mar Árabe

Mar Negro

Mar Rojo

Mar Mediterráneo

40



Cabrera

El Hierro

La Gomera

41

¿Cuál es la provincia más pequeña de España?

Álava

La Rioja

Guipúzcoa

42

¿Cuántas provincias tiene
Castilla y León?

 9 8 7

43

¿Cuál es la comunidad autónoma más poblada?

Andalucía

Galicia

Cataluña

44

¿Dónde está Salamanca?

Castilla y León

Asturias

Castilla La Mancha

45

Después de Madrid y Barcelona, ¿cuál es la ciudad con más habitantes?

Zaragoza

Valencia

Sevilla

46

¿Cuál es el punto situado más al norte de España?

Cabo de Finisterre

Cabo Peñón

Cabo Estaca de Bares

47

¿Cuál es el pico más alto de la península?

Aneto

Teide

Mulhacén

Tabla de los picos más importantes de España				
Nombre	Sistema	Altitud (m)	Prominencia (m)	Provincia
Teide	Islas Canarias (Tenerife)	3718	3718	Santa Cruz de Tenerife
Mulhacén	Cordillera Penibética (Sierra Nevada)	3479	3285	Granada
Aneto	Pirineos (Macizo de la Maladeta)	3404	2812	Huesca
Veleta	Cordillera Penibética (Sierra Nevada)	3398	315	Granada
Posets o Llardana	Pirineos (Macizo de Posets)	3375	1142	Huesca
Alcazaba	Cordillera Penibética (Sierra Nevada)	3371	176	Granada
Monte Perdido	Pirineos (Macizo del Monte Perdido)	3355	999	Huesca

48

La mayor distancia en línea recta dentro del territorio español continental está entre...

Cap de Creus (Girona) - Ayamonte (Huelva)

Cap de Creus (Girona) - Tarifa (Cádiz)

Cap de Creus (Girona) - Cabo de Touriñán (A Coruña)

- Mayor distancia en línea recta dentro del territorio español peninsular: 1 079 km, desde el cabo de Creus, en la provincia de Gerona, a la desembocadura del Guadiana al oeste de Isla Canela y al sur de Ayamonte, provincia de Huelva.

49

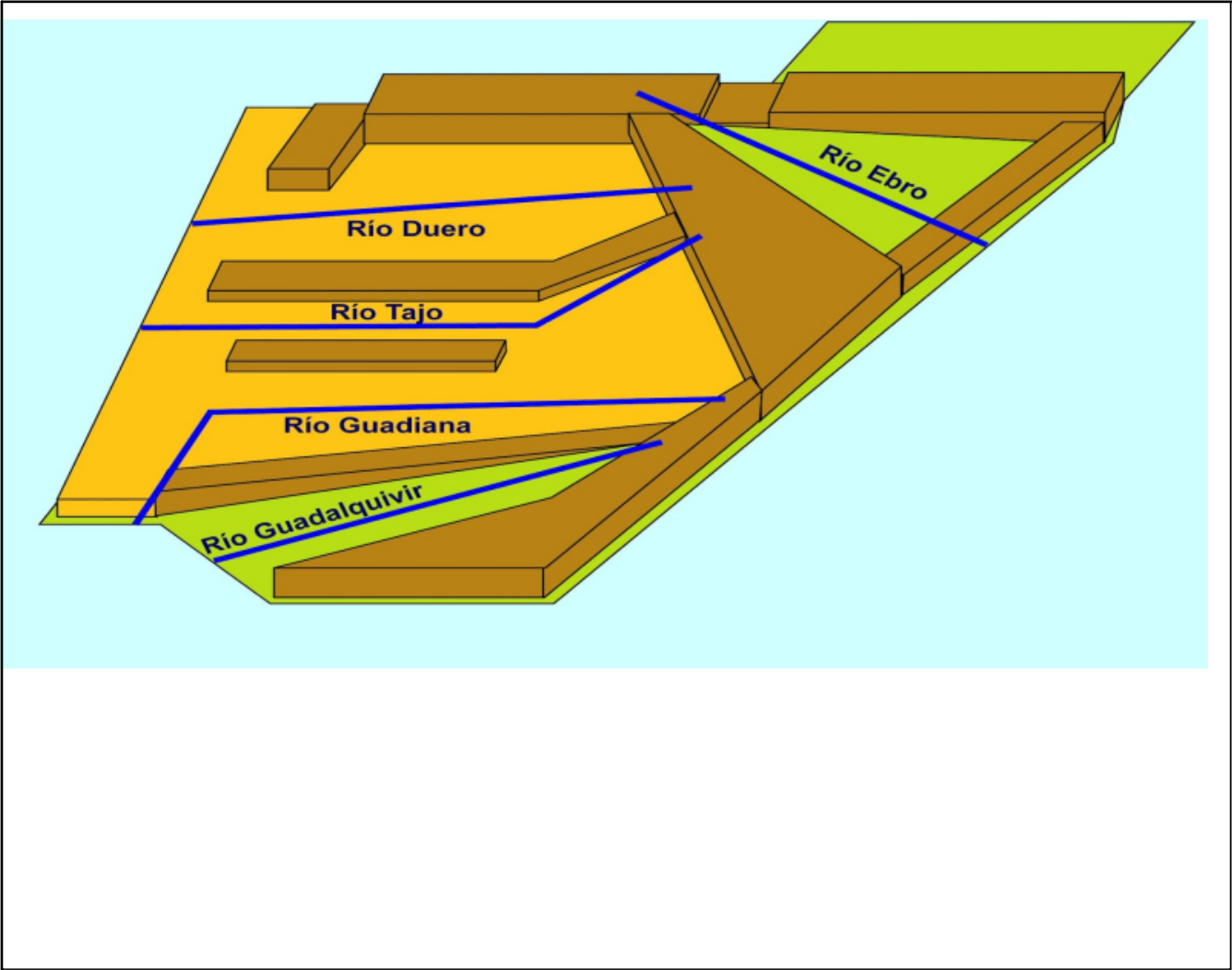
¿Por dónde no discurre el río Tajo?

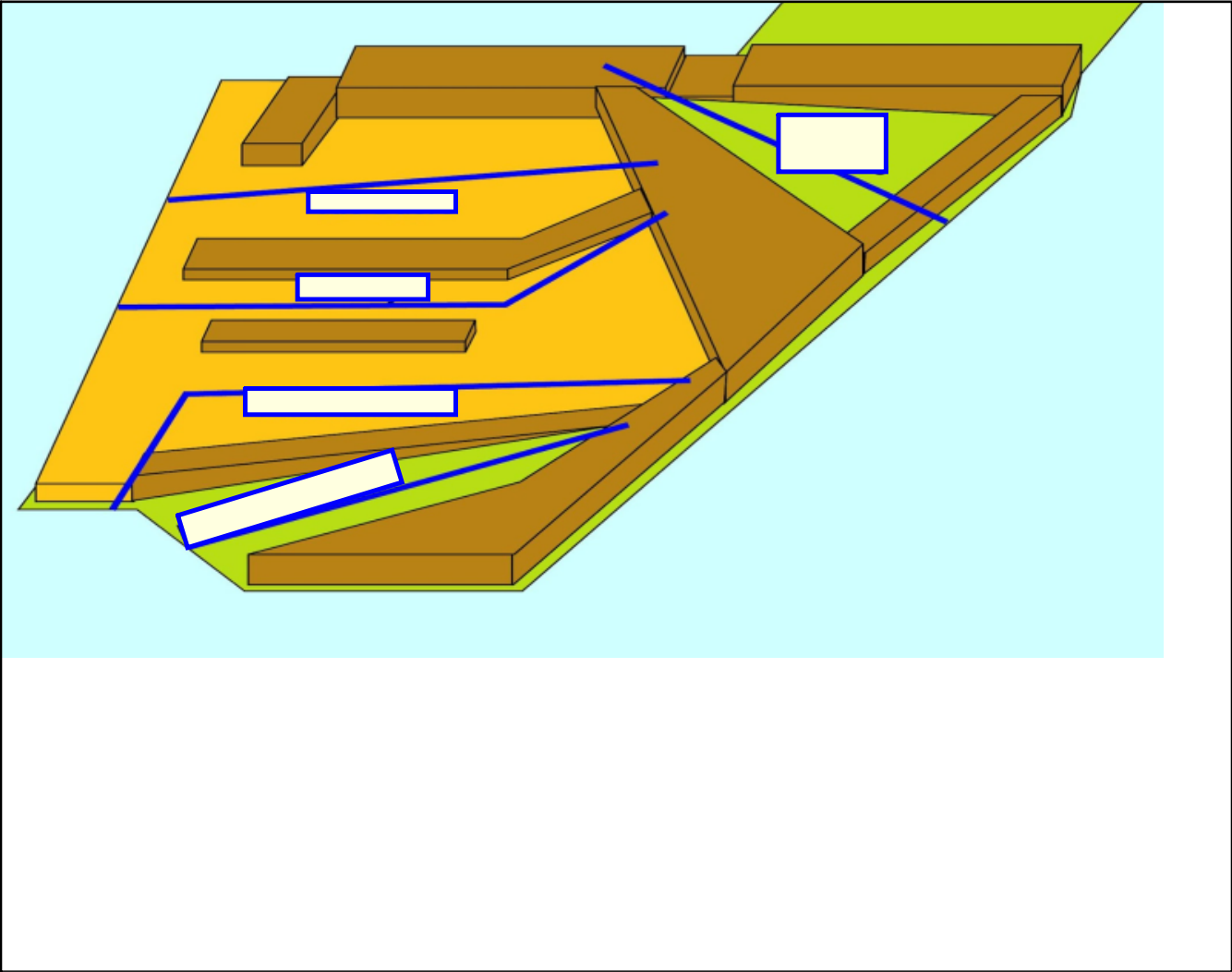
Extremadura


Aragón

Castilla y León









Reflexión El pálido punto azul - Carl Sagan -.mp4